

LIVRET-JEU

CAP D'AGDE
MÉDITERRANÉE
OFFICE DE TOURISME

EN QUÊTE DE...
PINET



C'est parti...

Ce jeu-parcours va vous permettre de découvrir Pinet, sous un autre angle, celui du divertissement, du plaisir et de la connaissance.

A votre guise, en famille, entre amis ou en explorateur solitaire, à l'aide du plan, vous vous rendrez aux lieux indiqués et répondrez aux questions, dans le sens que vous voulez.

Afin d'évaluer vos capacités et votre vivacité, en 1h30, vous devriez avoir terminé. Pour comparer vos réponses, vous consulterez les corrections mentionnées sur un feuillet du livret. Mais si vous trichez champion médiocre vous deviendrez.

Maintenant c'est à vous de jouer..

Bonne balade !

Un peu d'histoire

On ne connaît pas les origines de Pinet. Il semble que le village se soit formé en 967 à partir de donations faites au Chapitre cathédral d'Agde. En 1156, le pape Adrien IV confirme les biens du Chapitre. L'évêque est autorisé à fortifier les lieux. Le texte mentionne l'église Saint-Siméon. L'agglomération se développe autour du château.

Au milieu du XIX^e siècle, au moment du développement de la culture de la vigne, le village doit sa réputation à son vin blanc sec issu du Piquepoul, cépage réputé dès le XVII^e siècle et qui fait toujours la notoriété de Pinet.

1


CHÂTEAU DE PINET GAUJAL DE SAINT-BON

À l'emplacement du vieux château rasé entre 1820 et 1903, d'importants bâtiments viticoles sont construits. Les deux moulins sont détruits en 1903 pour créer un promontoire artificiel afin de bâtir en 1911 le nouveau château de la famille Gaujal. Il a été commandé au renommé architecte bordelais Garros qui est à l'origine de la construction de nombreux châteaux dans le Biterois grâce à la richesse engendrée par le vin. Ces châteaux à proximité de Béziers qui traduisent le faste et l'opulence grâce à la viticulture, portent un nom spécifique.

1/ Quel est ce nom ?

- A/ Château vinassier
- B/ Château vinardier
- C/ Château pinardier

Le château de Pinet Gaujal de Saint-Bon est le plus ancien domaine de l'appellation Picpoul de Pinet. Il a été réalisé au 19^e siècle, dans un style qui s'inspire des châteaux de la Loire.



2/ Quel est le nom de ce style ?

- A/ Style néo-Gothique
- B/ Style néo-Louis XIII
- C/ Style néo-Renaissance

La tendance architecturale dominante du XIX^e siècle est de réutiliser et mélanger les formes et éléments décoratifs des styles des siècles antérieurs.

Ce mélange d'éléments stylistiques a donné un nom à ce mouvement architectural du 19^e siècle.

3/ Quel est ce style ?

- A/ Surréalisme
- B/ Eclectisme
- C/ Modernisme





1

CHÂTEAU DE PINET GAUJAL DE SAINT-BON

4/ Jeu du puzzle du château

Reconstituez le puzzle en notant la lettre qui correspond à son numéro.

- | | | | |
|------------|-------------|-------------|-------------|
| 1 Lettre : | 2 Lettre : | 3 Lettre : | 4 Lettre : |
| 5 Lettre : | 6 Lettre : | 7 Lettre : | 8 Lettre : |
| 9 Lettre : | 10 Lettre : | 11 Lettre : | 12 Lettre : |



2

ANCIENNE MAIRIE RUE DU COMMERCE


L'ancienne mairie avait élu domicile en 1903 dans cette bâtisse achetée par la ville en 1900. En 1910 la statue de la République de 1893 réalisée en fonte va prendre place sur un socle à l'emplacement de la fontaine.

1/ Quel est le prénom de l'effigie qui illustre les statues ou les bustes de la République ?

2/ Quel événement historique a engendré la création des statues de la République ?

- A/ la Révolution
- B/ la Saint-Barthélemy
- C/ la bataille de Marignan

3/ Complétez la photo de la statue de la République.











2

ANCIENNE MAIRIE RUE DU COMMERCE

4/ Façade sudoku

Chaque photo correspond à une lettre. Notez la lettre sur les cases sachant que la photo ne doit être présente qu'une seule fois sur chaque ligne et chaque colonne.

Lettre			Lettre
	Lettre	Lettre	
	Lettre	Lettre	
Lettre			Lettre



A Statue de la République



C Pilier en fonte



B Clocheton à aileron



D Baie

3

ÉGLISE SAINT-SIMÉON-LE-STYLITE

L'église a été érigée en 1877 dans un style néo-gothique par Monsieur Blachas, architecte de la ville d'Agde suite à la vente comme biens nationaux du château et de l'église qui deviennent propriété privée en 1793.

1/ A quel siècle correspond la date de 1877 ?

A/ 18^e siècle

B/ 19^e siècle

2/ De quel matériau est composée la toiture du clocher ?

A l'intérieur, des fenêtres à remplage colorées assurent l'éclairage de l'église et relatent la vie de saints.

3/ Jeu de l'anagramme

Quel est le nom de cette fenêtre à remplage colorée ?

Aidez vous de l'anagramme **TRIVIAL** qui contient la réponse. En permutant les lettres vous trouverez le nom en sept lettres.

Cette église est consacrée à Saint-Siméon-le-stylite. **Mais qu'est-ce qu'un stylite ?**

L'explication ci-dessous de ce mot a été codé à l'aide du code César. Cet empereur romain a utilisé cette méthode pour l'envoi de missives militaires, il utilisait un décalage de trois lettres dans l'alphabet : A devient D, B devient E, C devient F...

4/ Jeu du code César

Décryptez l'explication ci-dessous à l'aide de l'alphabet du code César.

DVFHWH FKUHWLHQ TXL YLYDLW GHERXW VXU XQH FRORQQH D SVL

Alphabet clair

A	B	C	D	E	F	G	H	I	J	K	L	M	N	O	P	Q	R	S	T	U	V	W	X	Y	Z
D	E	F	G	H	I	J	K	L	M	N	O	P	Q	R	S	T	U	V	W	X	Y	Z	A	B	C

Alphabet décalé



4 MAISON PLACE DE L'ÉGLISE

Cette maison bourgeoise du 19^e siècle avec la couleur de sa façade altérée par le temps a perdu son lustre d'antan.

1/ Jeu des anagrammes

Quel est le nom des éléments sculptés ornés de motifs décoratifs qui servent de support au balcon ?

Aidez vous de l'anagramme **COLONES** qui contient la réponse. En permutant les lettres vous trouverez ce nom en sept lettres.

A/ -----

On peut aussi lui donner un autre nom dissimulé dans l'anagramme **CAROUBE**. En permutant les lettres vous trouverez ce nom en sept lettres qui est aussi un nom d'oiseau.

B/ -----

2/ Combien de ces supports de balcon il y a-t-il ?

Sur la façade principale :

Sur la façade latérale :



Le balcon s'étend tout le long du 1^{er} étage et se prolonge sur la façade latérale.

3/ Jeu de l'alphabet inversé

Ce type de balcon tout en longueur porte un nom codé avec l'alphabet inversé.

A l'aide de la grille ci-dessous, trouvez ce nom qui se cache dans le mot ci-dessous.

YZOXML UROZMG = -----

A	B	C	D	E	F	G	H	I	J	K	L	M	N	O	P	Q	R	S	T	U	V	W	X	Y	Z
Z	Y	X	W	V	U	T	S	R	Q	P	O	N	M	L	K	J	I	H	G	F	E	D	C	B	A

5 MAISON RUE DES VINS DÔC

Cette maison d'aspect simple et modeste possède un débord de toiture plutôt étendu par rapport à la taille de l'habitation. Ce débord porte le nom des habitantes d'une ville d'Italie. C'est lié à l'influence des maçons italiens qui travaillaient en Provence et dans le sud de la France au 17^e siècle.

1/ Quel est le nom italien que porte le couronnement du toit ?

- A/ une milanaise
- B/ une génoise
- C/ une romaine

2/ Combien de rangs de tuiles couvrent la façade ?



Les maisons modestes avaient deux rangs. Le nombre de rangs affichait ainsi le statut social du propriétaire mais permettait surtout d'assurer une meilleure protection à la façade.

La plupart des façades des maisons anciennes sont couvertes d'un enduit aux couleurs variées qui contribue au charme particulier du village de Pinet.

3/ Quelle est la fonction principale de l'enduit ?

6

MAISON 10 RUE DE LA CONCORDE

Cette maison date du 19^e siècle. Elle présente la disposition classique des maisons habitées par des familles de viticulteurs.

1/ Comment appelle-t-on ce type de maison ?

- A/ une maison vigneronne
- B/ une maison paysanne
- C/ une maison bourgeoise



Cette maison abrite sous son toit plusieurs fonctions distinctes. Le rez-de-chaussée est consacré aux activités viticoles avec cette grande porte qui donne accès au magasin où se trouve la cave. C'est par là qu'entraient les charrettes.

2/ Quel nom a ce type de porte ?

- A/ Porte cochère
- B/ Porte charretière
- C/ Porte carriole

Le dernier étage dispose de combles pour le stockage avec une fenêtre munie au-dessus d'une potence où était suspendu un objet très utile pour monter et descendre du foin, parfois il est encore visible sur les façades.

3/ Quel est cet objet ?

7

MAISON 12 RUE DE LA CONCORDE

Cette maison vigneronne du 19^e siècle présente au niveau du toit une corniche décorée d'une série d'ornements en forme de dent.

1/ Jeu de l'alphabet numéroté

Ce motif ornemental en forme de dent porte un nom spécifique en architecture qui a été codé ci-dessous avec l'alphabet numéroté.

Décodé le nom ci-dessous à l'aide de la grille.

4 / 5 / 14 / 20 / 9 / 3 / 21 / 12 / 5 / 19 = - - - - -

1	2	3	4	5	6	7	8	9	1	1	1	1	1	1	1	1	1	1	2	2	2	2	2	2	2
									0	1	2	3	4	5	6	7	8	9	0	1	2	3	4	5	6
A	B	C	D	E	F	G	H	I	J	K	L	M	N	O	P	Q	R	S	T	U	V	W	X	Y	Z

Le balcon aux lignes courbes végétalisées correspond à un style artistique de la fin du 19^e siècle et début du 20^e siècle.



2/ A quel style correspond-t-il ?

A/ Art Déco B/ Art Nouveau

Ce style porte aussi un autre nom lié à ses formes en arabesque qui évoqueraient un ingrédient alimentaire.

3/ Quel est cet autre nom de style ?

A/ Art Nouille B/ Art Spaghetti

8

MAISON 14 RUE CONCORDE

Cette imposante bâtisse du 19^e siècle présente une façade « imitation » pierres de taille réalisée à base de calcaire argileux cuit.

L'usage de ce nouveau matériau a été à l'origine de nombreuses constructions à cette époque. Il était apprécié pour sa résistance, sa rapidité de prise, ses multiples possibilités de décors à l'aide de moulages préfabriqués.

1/ Jeu de l'alphabet des formes

Ce nouveau matériau à base de calcaire argileux cuit entre 500 et 1200° porte un nom spécifique qui a été codé avec la grille de l'alphabet des formes ci-dessous.

Décodez les formes ci-dessous

⊗ ♥ ⊔ → ⊗ ☾ -----

⊗ ○ ☾ ⚡ ≠ → ↗ -----

÷ ≠ = ⊔ ÷ ☾ -----



○	□	⊗	△	→	↓	☆	▽	♥	●	⊕	↗	⊔	⊗	=	÷	≠	▽	☾	⚡	⊗	∩	⊔	□	□	
A	B	C	D	E	F	G	H	I	J	K	L	M	N	O	P	Q	R	S	T	U	V	W	X	Y	Z

Les ouvertures du rez-de-chaussée ainsi que les fenêtres du dernier étage sont agrémentées en leur sommet de claveaux. Ici ils sont quasi dépourvus de décoration mais ils peuvent être ornés de motifs très variés.

2/ Comment s'appelle cet ornement au sommet et au centre d'une baie ou d'une porte ?

Pour indice le nom de cet ornement vient du fait qu'il se fixe à l'aide d'une pièce métallique utilisée aussi en papeterie.

9

MAISON N°22 D16102

L'encadrement de la porte d'entrée date du 19^e siècle mais cette forme d'arc existe depuis le 15^e siècle. Son ouverture a la forme d'un arc mouluré qui porte un nom spécifique en architecture.



1/ Jeu de l'alphabet des chiffres

Comment s'appelle ce type d'arc utilisé en architecture, typique du 15^e siècle ?

Vous le trouverez en décodant son nom ci-dessous crypté avec des chiffres à l'aide de la grille.

1/18/3 19/21/18/2/1/9/19/19/5 = - - - - -

1	2	3	4	5	6	7	8	9	1	1	1	1	1	1	1	1	1	2	2	2	2	2	2	2	
									0	1	2	3	4	5	6	7	8	9	0	1	2	3	4	5	6
A	B	C	D	E	F	G	H	I	J	K	L	M	N	O	P	Q	R	S	T	U	V	W	X	Y	Z

2/ Jeu de l'archi-tête

Notez à chaque nom d'arc la lettre qui lui correspond.

1/ Arc rampant : **lettre**

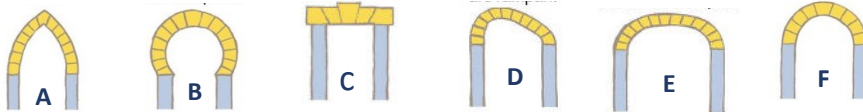
2/ Arc brisé : **lettre**

3/ Arc en plein cintre : **lettre**

4/ Arc outrepassé : **lettre**

5/ Plate-bande : **lettre**

6/ Arc en anse de panier : **lettre**



On peut voir sur la façade un élément décoratif qui représente un fruit faisant référence à la richesse économique qu'il a engendrée.

3/ De quel fruit s'agit-il ? -----

4/ Quel est le nom de l'activité agricole qui consiste à cultiver ce fruit ?

10

CAVE COOPÉRATIVE DE L'ORMARINE 13 AVENUE DU PICPOUL

La culture de la vigne s'est beaucoup développée au milieu du 19^e siècle et en 1923 une cave coopérative est construite, agrandie et modernisée au cours des années. Elle prend le nom de "Cave de l'Ormarine" en 1989.

Pinet et sa cave coopérative doivent leur réputation à leur vin blanc sec dénommé le Picpoul qui est issu du cépage Piquepoul. Ce cépage, réputé dès le 17^e siècle, obtient le label Vin Délimité de Qualité Supérieure en 1947 et l'Appellation d'Origine Protégée Languedoc-Picpoul de Pinet en 1985.



C'est ici que les viticulteurs apportent leur raisin pour qu'il soit transformé en vin.

1/ Comment s'appelle cette opération ?

A/ Vendange B/ Cuvage C/ Vinification


2/ Combien faut-il environ de raisin pour obtenir un litre de vin ?

A/ 1,5 kg B/ 3 kg C/ 5 kg

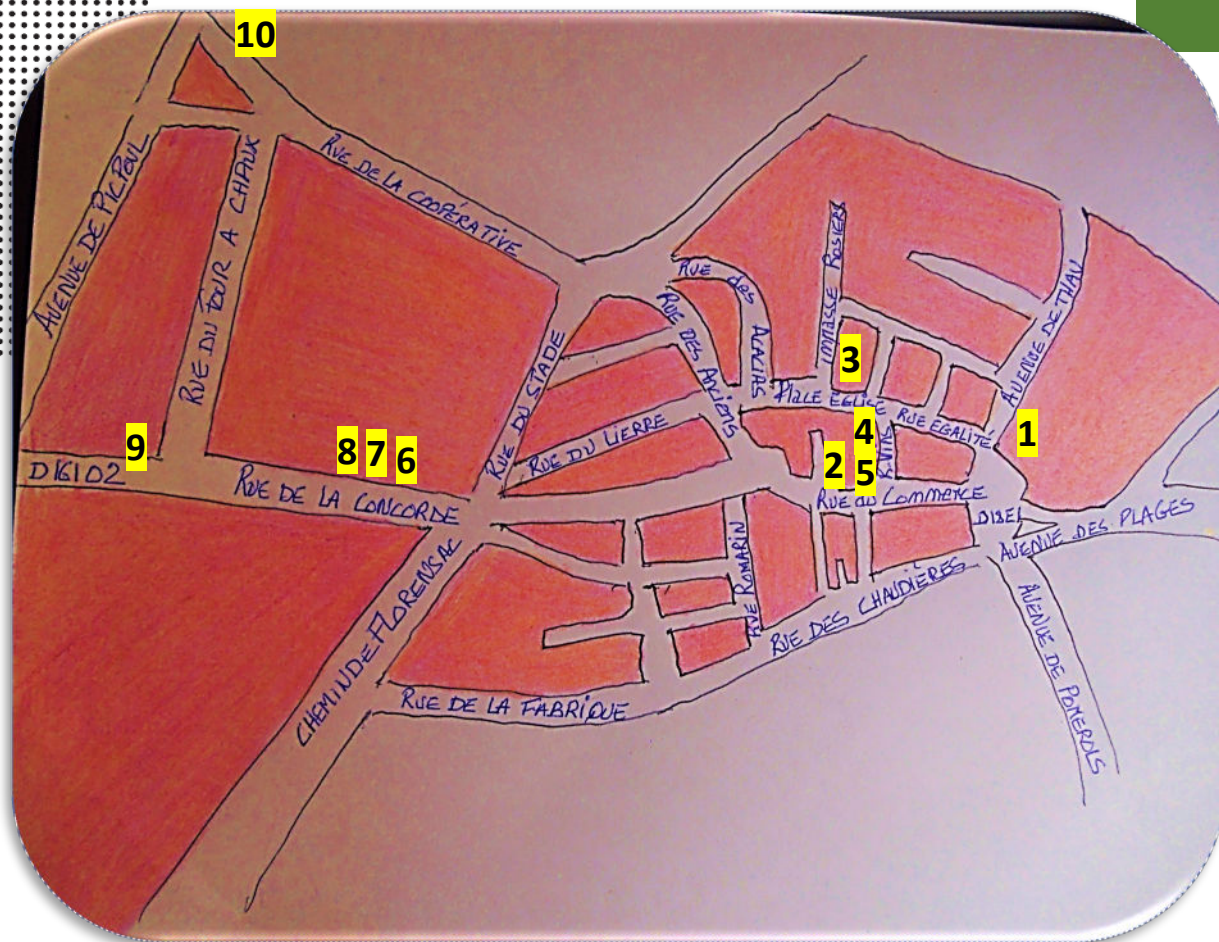
Le vin est stocké dans de grandes cuves. La mise en bouteille est l'ultime étape de la fabrication de ce breuvage.

3/ Jeu du labyrinthe

En traversant le labyrinthe, le raisin pourra rejoindre la vis sans fin du fouloir-égrappoir qui écrase le fruit et enlève la grappe pour extraire le jus.



Labyrinthe gris image de evening_tao sur freepik.



CORRECTIONS

- Question 1 :** 1 / C
2 / C
3 / B
4 / Puzzle : 1D / 2I / 3E / 4H / 5J / 6A / 7G / 8B / 9L / 10F / 11C / 12K
- Question 2 :** 1 / Marianne
2 / A
3 / Dessin
- Question 3 :** 1 / B
2 / Ardoise
3 / Vitrail
4 / Ascèle chrétien qui vivait sur une colonne debout à prier
- Question 4 :** 1 / A / Console B / Corbeau
2 / 7 + 5
3 / Balcon filant
- Question 5 :** 1 / B
2 / 4
3 / Protéger la façade
- Question 6 :** 1 / A
2 / B
3 / Poule
- Question 7 :** 1 / Denticles
2 / B
3 / A
- Question 8 :** 1 / Ciment naturel prompt
2 / Agrafe
- Question 9 :** 1 / Arc surbaissé
2 / 1D / 2A / 3F / 4B / 5C / 6E
3 / Raisin
4 / Viticulture
- Question 10 :** 1 / C
2 / A

JOUER ENCORE...

**CAP D'AGDE
MÉDITERRANÉE**
OFFICE DE TOURISME

.... avec nos autres livrets-jeux

**EN QUÊTE DE NIZAS, MONTAGNAC, CAUX
SAINT-PONS-DE-MAUCHIENS, ADISSAN
AUMES, LÉZIGNAN-LA-CÈBE
CAZOULS D'HÉRAULT...**



DÉCOUVRIR ENCORE...

AVEC NOS VISITES GUIDÉES

Un guide vous emmène à la découverte de l'histoire et du patrimoine de nos villes et villages, toute l'année.

Consultez l'agenda sur www.capdagde.com

Réservez vos visites sur www.reservation.capdagde.com



**OFFICE DE TOURISME
Cap d'Agde Méditerranée**

Impasse de la Bienvenue
Le Cap d'Agde - F-34300 Agde
Tél. +33 (0)4 67 01 04 04
contact@capdagde.com

Bureau d'information touristique Pézenas

20 place du 14 juillet
34120 Pézenas
Tél. +33 (0)4 67 98 36 40
pezenas@capdagde.com



#capdagdemediterranee



**VILLES
& PAYS
D'ART &
D'HISTOIRE**